




طاہرہ پورفلاح

# بختی



شمارش به کمک انگشتان، شناخت الگو و ادامه‌ی آن، شناسایی اشکال هندسی، تقویت توان حسی حرکتی

۱ اگر به هر دسته ۲ تا ▲ اضافه کنیم چندتا ▲ می‌شود؟ به تعداد ▲ هر دسته از ○ رنگ کن.




۲ به تعداد انگشتان هر دو دست از گل‌ها رنگ کن.










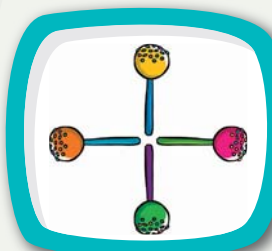
شکل‌های مثل هم را مانند نمونه در یک دسته قرار داده و تعداد هر دسته را با انگشتان دست نشان بده.



تعداد شکل‌های هر دو دسته را به دست مربوط به آن وصل کن.



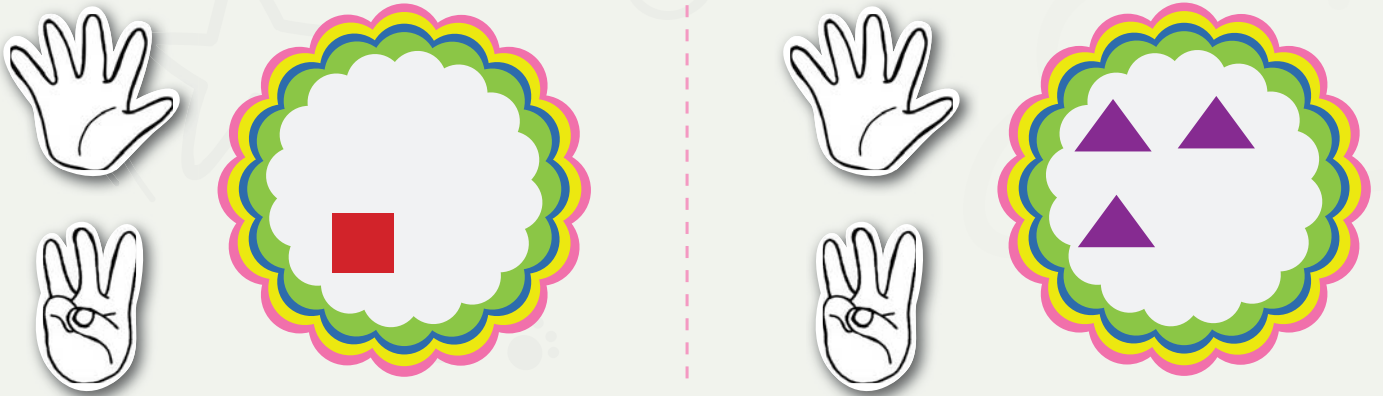
تعداد آب‌نبات‌های سمت چپ را بگو و مانند نمونه با همان تعداد ۲ شکل متفاوت دیگر بساز.



۶ جدول شگفت‌انگیز را کامل کن.



۷ به هر دسته دو شکل اضافه کن و دست مناسب آن را رنگ کن.



۸ نرده‌های این مزرعه را طوری رنگ کن که الگو داشته باشد.













۱۰ الگو را ادامه بده.



۱۱ با توجه به تصاویر به تعداد هر چرخ، در خانه‌های جلوی آن ● بکش.

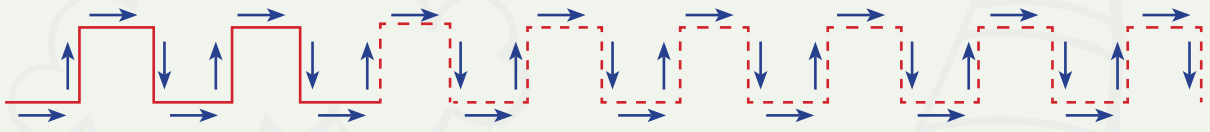
					
					
					
					

۱۲ مانند نمونه جدول را کامل کن.



مانند نمونه، شکل را از روی خطچین ادامه بده و کامل کن. ۱۳



نیاز به تلاش بیشتر

قابل قبول

خوب

خیلی خوب



انتظارات آموزشی

- .....  .....  .....  ..... مفهوم اضافه کردن دو شی را با کشیدن شکل درک می کند.
- .....  .....  .....  ..... شکل ها را در جدول با هم ترکیب می کند.
- .....  .....  .....  ..... می تواند با کمک انتقال، انگشتان دو دست را با یک دست نشان دهد.
- .....  .....  .....  ..... به کمک چوب شکل می سازد.
- .....  .....  .....  ..... توانایی استفاده کردن از شابلون را دارد.
- .....  .....  .....  ..... بیان می کند هر شکل از چند شکل کوچک تر تشکیل یافته است.

نظر آموزگار:

نظر اولیا:

نیاز به تلاش بیشتر

قابل قبول

خوب

خیلی خوب

نتیجه کلی آموزش

