



تمرین



۱- اگر هر یک دسته‌ی ده‌تایی باشد، جواب جمع و تفریق‌های زیر را به دست بیاور.

$$\dots + \dots = \dots$$

$$\dots + \dots = \dots$$

$$\dots - \dots = \dots$$

$$\dots - \dots = \dots$$

۲- حاصل جمع و تفریق‌های زیر را با استفاده از روش ساده کردن در جمع و به صورت ذهنی بنویس.

$$40 + 30 = \square \quad 50 + 40 = \square \quad 70 - 30 = \square \quad 60 + 30 = \square$$

$$70 - 20 = \square \quad 90 - 30 = \square \quad 30 + 50 = \square \quad 90 - 50 = \square$$

۳- مانند نمونه، هر جمع را به دو صورت (افقی و عمودی) بنویس. برای جاهای خالی، شکل بکش و جمع بنویس.

$$4 + 3 = 7$$

$$\dots + \dots = \dots$$

$$\dots + \dots = \dots$$



$$\dots + \dots = \dots$$

$$\dots + \dots = \dots$$

$$\dots + \dots = \dots$$



۴- جمع و تفریق‌های زیر را روی محور نشان بده.



۵- حاصل جمع و تفریق‌های زیر را بنویس.

$40 + 20 =$

$50 + 40 =$

$60 - 40 =$

$70 - 30 =$

$90 - 40 =$

$30 + 60 =$

$70 - 50 =$

۶- جاهای خالی را مانند نمونه، کامل کن.

$30 + 40 = 70$

۳ دسته ده‌تایی به اضافی ۴ دسته ده‌تایی = ۷ دسته ده‌تایی

$90 - 50 =$

۹ دسته ده‌تایی منهای ۵ دسته ده‌تایی = دسته ده‌تایی

$70 + 20 =$

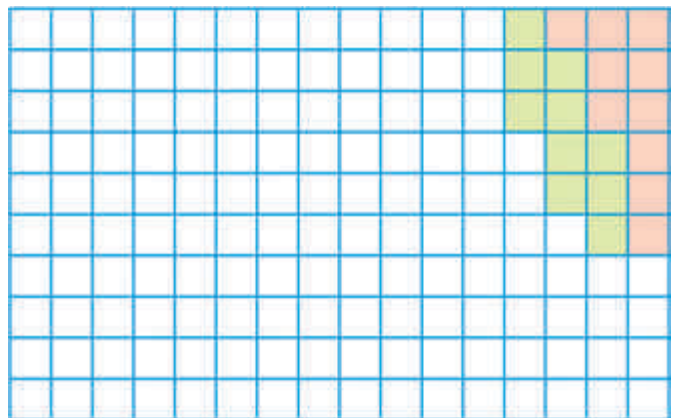

۷ دسته ده‌تایی به اضافی ۲ دسته ده‌تایی = دسته ده‌تایی

$80 - 30 =$

۸ دسته ده‌تایی منهای ۳ دسته ده‌تایی = دسته ده‌تایی

۷- مانند نمونه‌ها در هر قسمت، خانه‌ها را ده تا ده تا رنگ کن و شکل‌های مختلفی بساز. هر بار از یک

مداد رنگی استفاده کن. در هر قسمت چند دسته ده‌تایی درست کردی؟



..... دسته ده‌تایی = تا

..... دسته ده‌تایی = تا



تمرین



۱- دور هر تصویر یک شکل هندسی می‌بینی، مانند نمونه، نام هر شکل را بنویس و با شابلون، آن شکل را رسم کن.



.....دایره.....




.....




.....



.....



.....



.....



..... ۲- الگوها را ادامه بده:



.....



.....












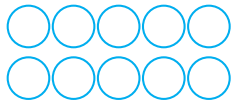


.....



۳- مانند نمونه، با کنار هم قرار دادن شکل‌های هندسی، یک شکل زیبا بساز. برای این کار، از شابلون استفاده کن.



۱۲ - در هر قسمت، تا آن جا که می‌توانی دسته‌های دوتایی جدا کن. اگر یک دایره باقی ماند، کلمه‌ی **فرد** و اگر دایره‌ای نماند، کلمه‌ی **زوج** را بنویس.

 فرد	 زوج		
			
			

۱۳ - اکنون عددهای فرد و زوج کمتر از ۱۳ را بنویس.

عددهای فرد ۱ - - - - - - -
 عددهای زوج ۲ - - - - - - -

برای آن که بدانیم عددهای دورقمی و سه رقمی زوج یا فرد است، کافی است که به رقم یکی آن نگاه کنیم. اگر یکی آن زوج بود، آن عدد زوج است و اگر یکی آن فرد بود، آن عدد فرد است.

۱۴ - با توجه به رقم یکی هر عدد، دور عددهای زوج را مربع و دور عددهای فرد را دایره بکش.

۱۶ - ۳۱ - ۵۵ - ۴۴ - ۱۸ - ۳۴ - ۷۶ - ۹۷ - ۶۸ - ۸۰ - ۵۹ - ۲۳ - ۷۲

