

موضوع آدینه:  
روز روستا و  
عشایر

۳

# سپه آدینه



دوم ابتدایی

نام و نام خانوادگی: ..... نام آموزگار: ..... تاریخ: .....

روستاییان و عشایر پر تلاش قسمت مهمی از مواد غذایی مردم کشور عزیزمان را تأمین می‌کنند.  
مانند: گندم، برنج، گوشت و ...

ب بودجه بندی محتوایی

فارسی: درس دوم: مسجد، محله‌ی ما  
هدیه‌های آسمان: درس سوم: فاطمه‌ی ماه  
ریاضی: فصل اول: شمارش چندتا چندتا  
علوم تجربی: درس دوم: هوای سالم، آب سالم

ف فارسی

حروف درهم ریخته‌ی زیر را مرتب کنید و با حروف در کنار هم یک کلمه بسازید.

ی - ا - ک - ع - س

ی - ر - غ - چ - ا - ن

و - خ - ح - ش - ل - ا

۲ درست یا نادرست بودن جمله‌های زیر را با توجه به متن درس با علامت‌های ✓ یا ✗ مشخص کنید.

✗ با همفکری یکدیگر در مسجد می‌توانیم در هر زمان کارهای بزرگی انجام دهیم. ( )

✗ مسجد محله‌ی ما در فصل پاییز کلاس‌های ورزشی دارد. ( )

۳ با کلمه‌های زیر جمله بسازید.

..... نماز جماعت

..... حوض

۴ کلمه‌های به هم ریخته‌ی زیر را مرتب کنید و با آن‌ها یک جمله بسازید.

حرف‌های - بادقت - پیش - مهدی - نماز - به - داد - گوش



۵ نشانه‌های جا افتاده در متن زیر را بنویسید.

مردم می‌خ... استند برای ا... لین بار، نماز را به جما... ت بخ... انند. مسجد م... لّهی ما کلاس‌های آموزش ن... اشی و ... گاسی دارد. ما در مسجد از ... سال یکدی... ر باخبر می‌شویم.

### ه مدیّه‌های آسمان


۶ نام فرزند حضرت فاطمه که همراه مادرش برای همسایه‌ها و دوستانشان دعا کرد، چه بود؟

۷ دوست دارم در ماه محرم و صفر، وقتی به مسجد می‌روم مانند حضرت فاطمه ابتدا برای

۸ علیه‌السلام یعنی .....

### ر ریاضی

۹ الگوهای زیر را کامل کنید.

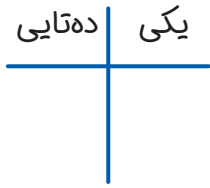


۱۰ با توجه به الگوی داده شده شکل و الگوی زیر را ادامه دهید.




۳، ۶، .....، .....، .....، .....، .....

۱۱ یک لباس فروشی، ۳ دسته‌ی ده تایی لباس بچه‌گانه و ۲ دسته‌ی ده تایی لباس نوزادی و ۴ عدد شلوار را از بازار خریده است این فروشنده روی هم چند لباس تهیه کرده است؟



۱۲ با روش خود تعداد خانه‌های شکل زیر را بشمار و کنار آن بنویسید.



تعداد خانه‌های شکل: .....

۱۳ حاصل جمع‌های زیر را با رسم شکل یا چوب‌خط پیدا کنید.



$5+7+5=$  .....

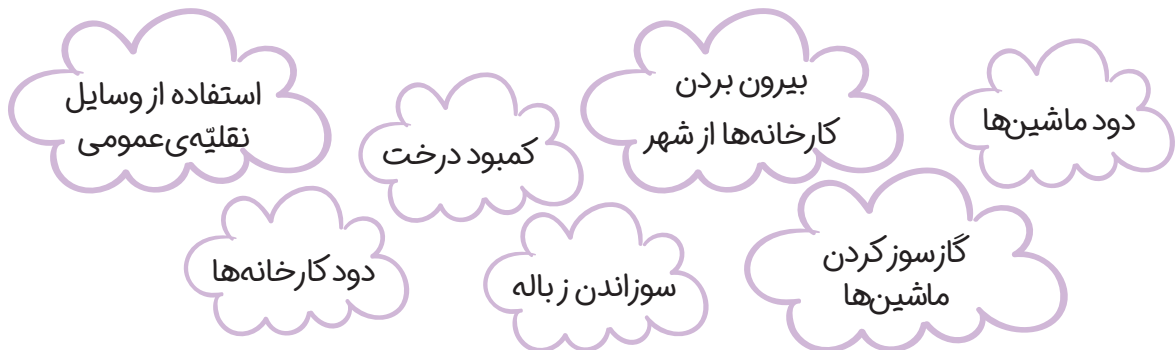


$9+5+4=$  .....



ع علوم تجربی

۱۴ کارهایی را که باعث آلوده شدن هوا می‌شود، زرد رنگ و کارهایی که باعث پاکیزه شدن هوا می‌شود، سبز رنگ کنید.





۱۵ چرا بعضی روزها، خیابان‌های شهر پر از زباله می‌شوند؟

.....

.....

۱۶ درست یا نادرست بودن جمله‌های زیر را با علامت ✓ یا ✗ مشخص کنید.

• آب رودخانه، بهداشتی و قابل آشامیدن است. ( )

• هوای روستاها بسیار پاکیزه‌تر از هوای شهرها است. ( )

۱۷ جمله‌های زیر را به کلمه‌های مربوط به خودشان وصل کنید.



• زندگی جانوران و ماهی‌ها را به خطر می‌اندازد.

• هوا را پاکیزه می‌کند.

• استفاده از وسایل نقلیه عمومی باعث سالم شدن آن می‌شود.

**ب بازخورد توصیفی**

کمی خوب	تا حدی خوب	خوب	عالی	شاخص‌ها
				۱. توانایی نوشتن املاي درست کلمات
				۲. آشنایی با فعالیت‌هایی که در مسجد صورت می‌گیرد.
				۳. مهارت در جمله‌سازی
				۴. آشنایی با اهل بیت پیامبر (ص)
				۵. آشنایی با شیوه دعا کردن
				۶. مهارت ادامه دادن الگوهای عددی و شکلی
				۷. کسب مهارت در شمارش چندتا چندتا
				۸. توانایی حل مسئله با راهبرد رسم شکل
				۹. آشنایی با مفهوم هوای آلوده و هوای سالم
				۱۰. کسب آگاهی درباره‌ی دلایل آلوده شدن آب و هوا